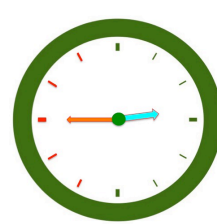
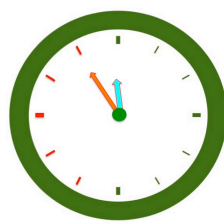
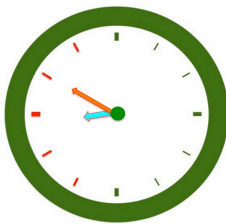
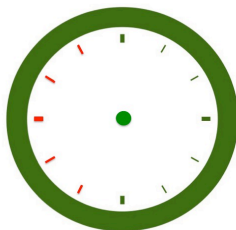


## ¿Qué hora es?

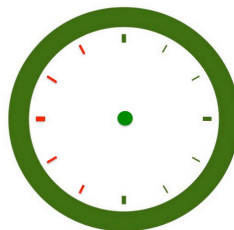
I. Escribe la hora que marca el reloj.



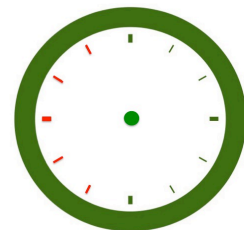
II. Dibuja las manecillas del reloj.



Las dos menos cuarto



Las ocho y cuarto



Las nueve menos cinco